



7課

ようごとぶん

Unidade 7

Vocabulários e frases

ようご	Vocabulários
おりがみ	Papel para dobradura, <i>origami</i>
なわ	Corda
きる	Cortar
テープ	Fita, tira
ひも	Cordão, barbante
ボール	Bola
かご	Cesto
はん	Grupo
いくつ	Quanto, quantos, quantas

ぶん	Frases
18mの なわを 3mずつ きると、	Se cortar 18m de corda em pedaços de 3m,...
いくつの はんに わけられますか。	Em quantos grupos poderá dividi-las?


7 ぶんしょうだい②

「包含除」の文章題

1

「何人に分けられるか」の問題①

24ほんのえんぴつを 6ほんずつ わけると、
なんにんに わけられますか。



24ほん わけます 6ほんずつ → なんにん?

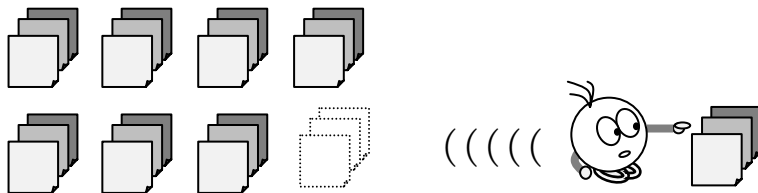
(しき) ÷ =

(こたえ) にん

2

「何人に分けられるか」の問題②

24まいの おりがみを 3まいずつ くばると、
なんにんに わけられますか。



(しき) ÷ =

(こたえ) にん

3

18mのなわを3mずつきると、
なんにんにわけられますか。



(しき)

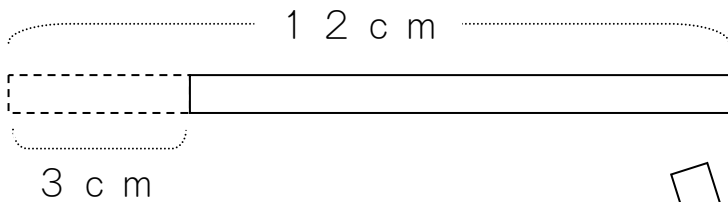
□ □ □ = □

(こたえ)




□

4

12cmのテープを3cmずつきると、
なんぼんのテープにわけられますか。



3cm



12cm

わけます

3cmずつ



なんぼん?

(しき)


□ ÷ □ = □

(こたえ)

ほん

5

12 cmのテープを 4 cmずつ きると、
 なんぼんの テープに わけられますか。



(しき) \div =

(こたえ)

6

48 cmのひもを 8 cmずつ きると、
 なんぼんの ひもに わけられますか。



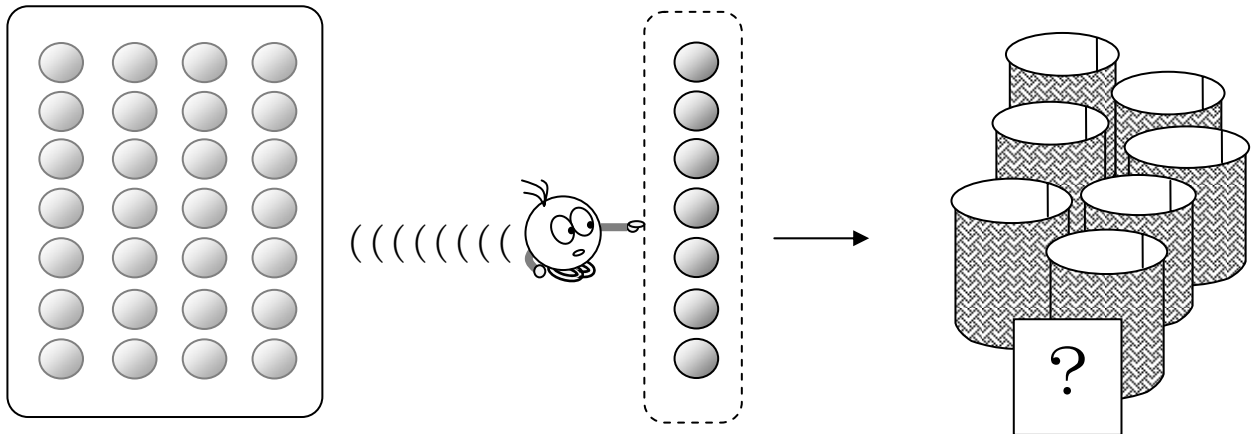
(しき) \div =

(こたえ)

7

28この ボールを 7こずつ かごに わけると、
いくつの かごに わけられますか。

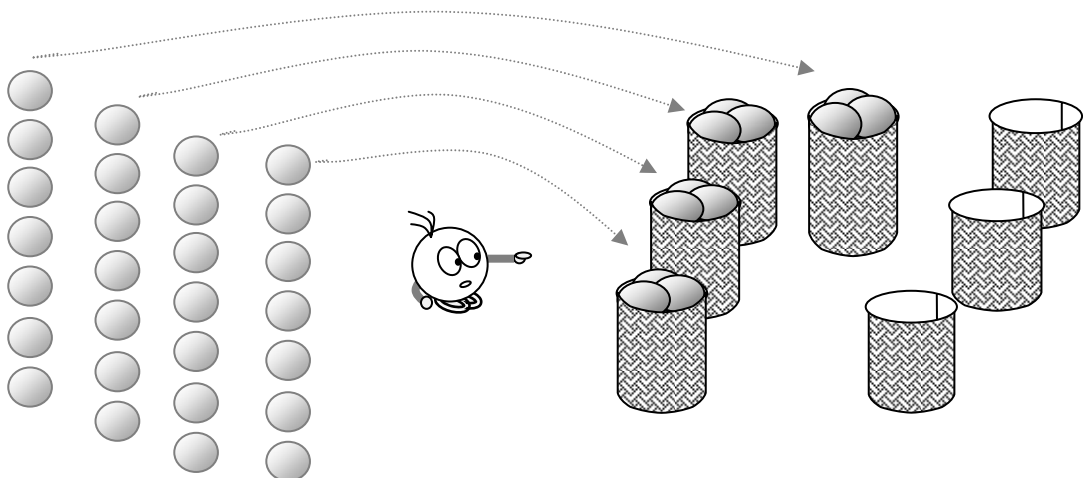
① えをみて、しきをつくりましょう。



28こ わけます 7こずつ → いくつ?

(しき) ÷ =

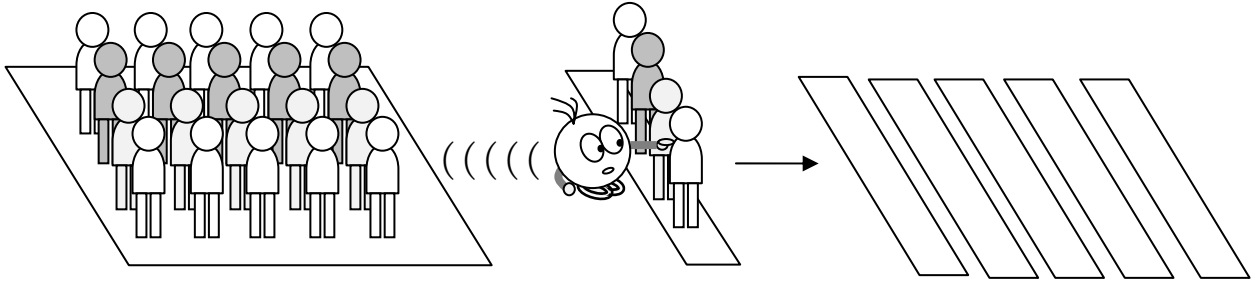
② いくつの かごに わけられますか。



(こたえ)

8

20にんを 4にんずつの はんに わけると、
いくつの はんに わけられますか。



20にん わけます 4にんずつ → いくつの はん？

(しき) ÷ =

(こたえ)

9

20にんを 5にんずつの はんに わけると、
いくつの はんに わけられますか。

20にん わけます 5にんずつ → いくつの はん？

(しき) ÷ =

(こたえ)