



**30課**

**Unidade 30**

ようごとぶん

**Vocabulários e frases**

ようご	Vocabulários
くばる	Distribuir, repartir

ぶん	Frases
なんにんに くばれますか。	Para quantas pessoas poderemos distribuir?

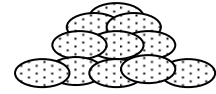
文章題を「関係図」を使って整理する-①等分除

1

クッキーが 18こ あります。

3にんに おなじ かずずつ わけると、

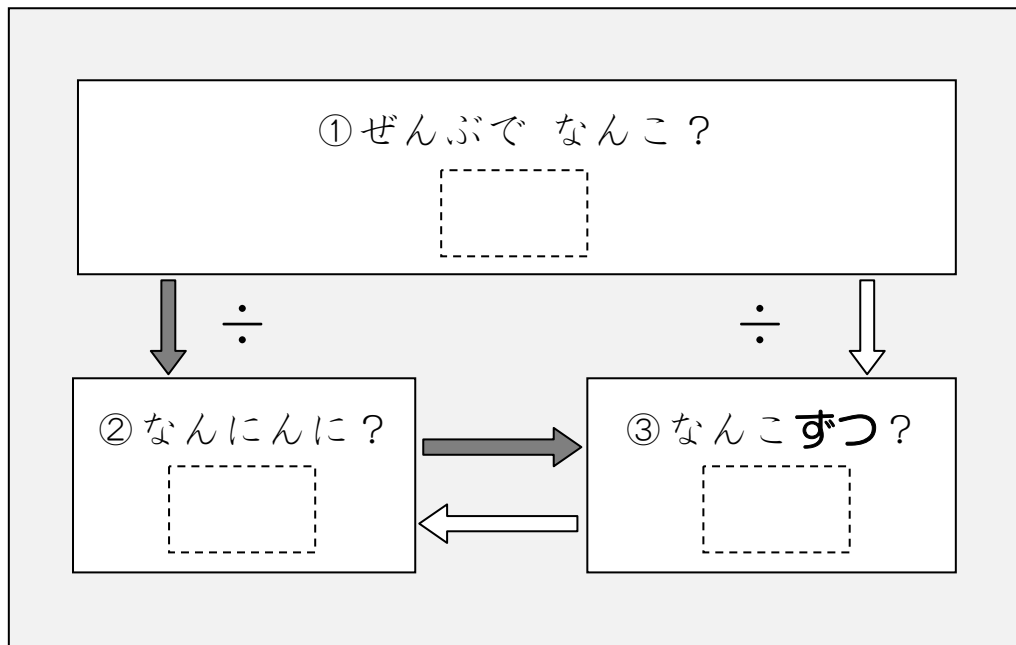
ひとりぶんは なんこ ですか。



もんだいを よんでも しきがつくれない。



そんなときは、つぎの ずをつかって かんがえましょう。



①クッキーは 「18こ」と 書いてありますから、

①の [ ]には 18と かきます。

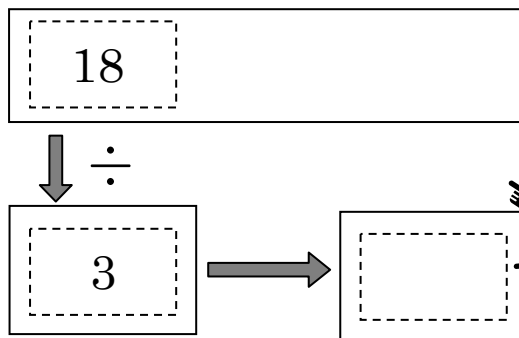
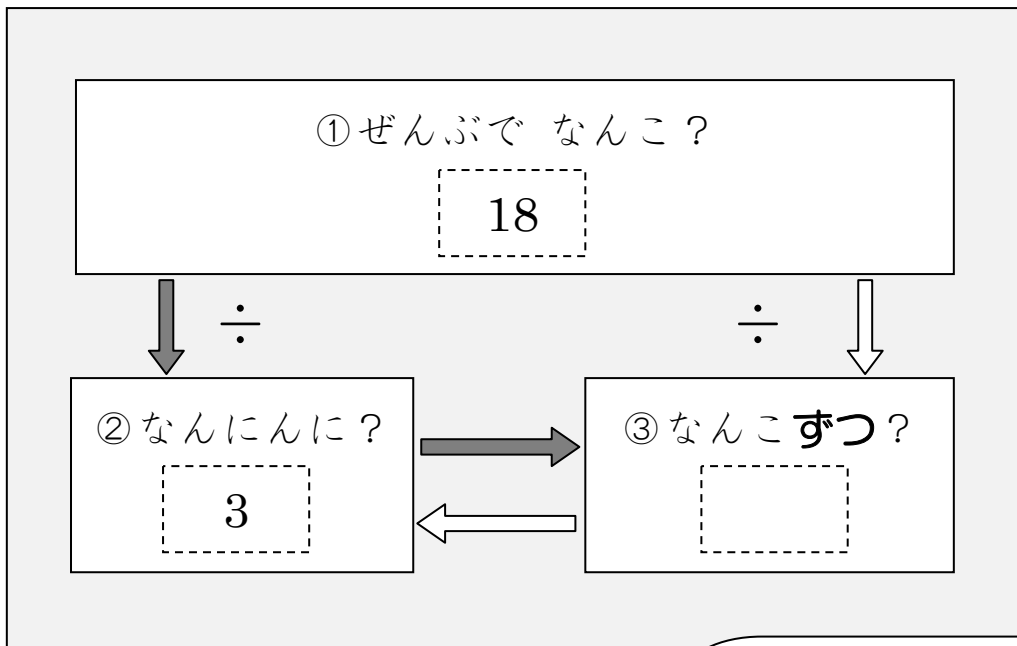
②「3にんに」と 書いてあるので、

②の [ ]に 3と かきます。

③「ずつ」のところには かずが 書いてありませんので、

③の [ ]には なにも かきません。

すると、つぎのようになります。



この □ は、  
18 ÷ 3 の けいさんを  
すると わかります。



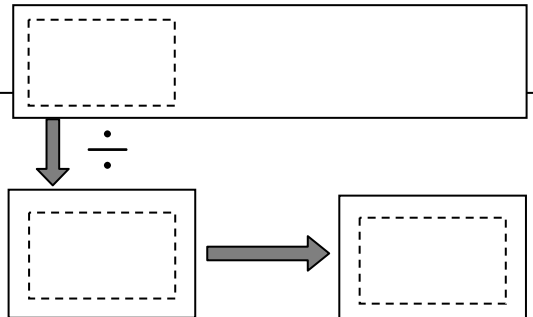
18 ÷ 3 = 6 ですから、ひとりぶんは 6 こです。

2

文章題を「関係図」を使って整理する方法に慣れる① 等分除

おりがみが 24まい あります。4にんに おなじ かずずつ  
わけると、ひとりぶんは なんまいですか。

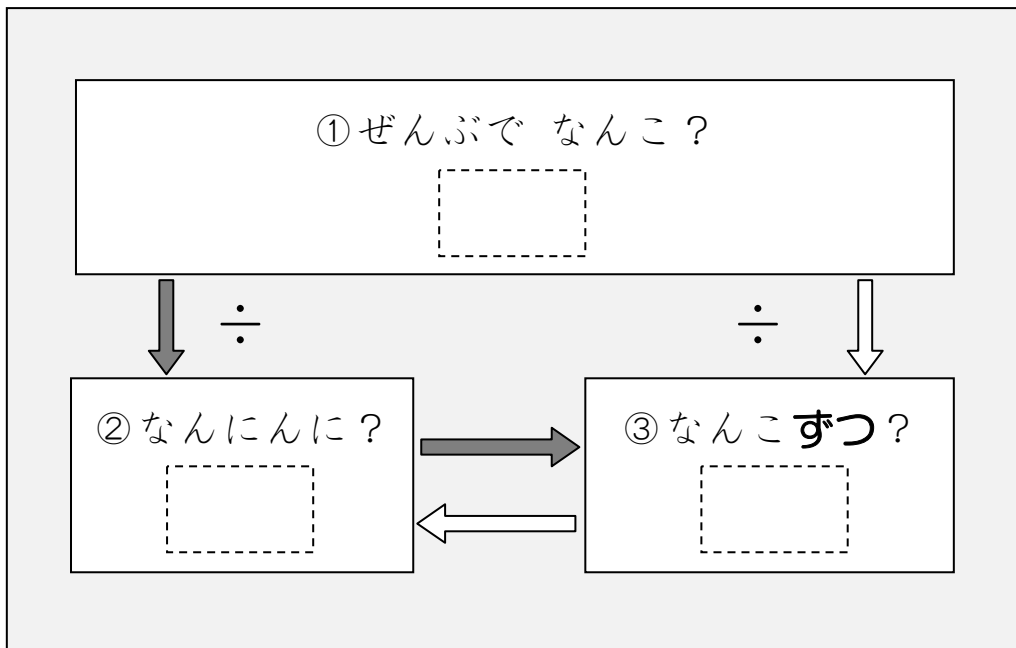
ずを つかって かんがえましょう。




3

クッキーが 32こ あります。8こずつ くばると、  
なんにんに くばれますか。

これも ずを つかって、かんがえてみましょう。



- ① クッキーは ぜんぶで なんこと 書いてありますか。
- ② 「なんにんに」のところには はずが 書いてありません。
- ③ 「ずつ」のところには なんこずつと 書いてありますか。



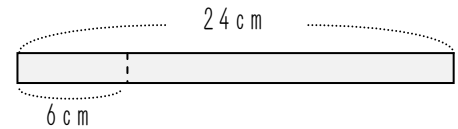
4

文章題を「関係図」を使って整理する方法に慣れる②

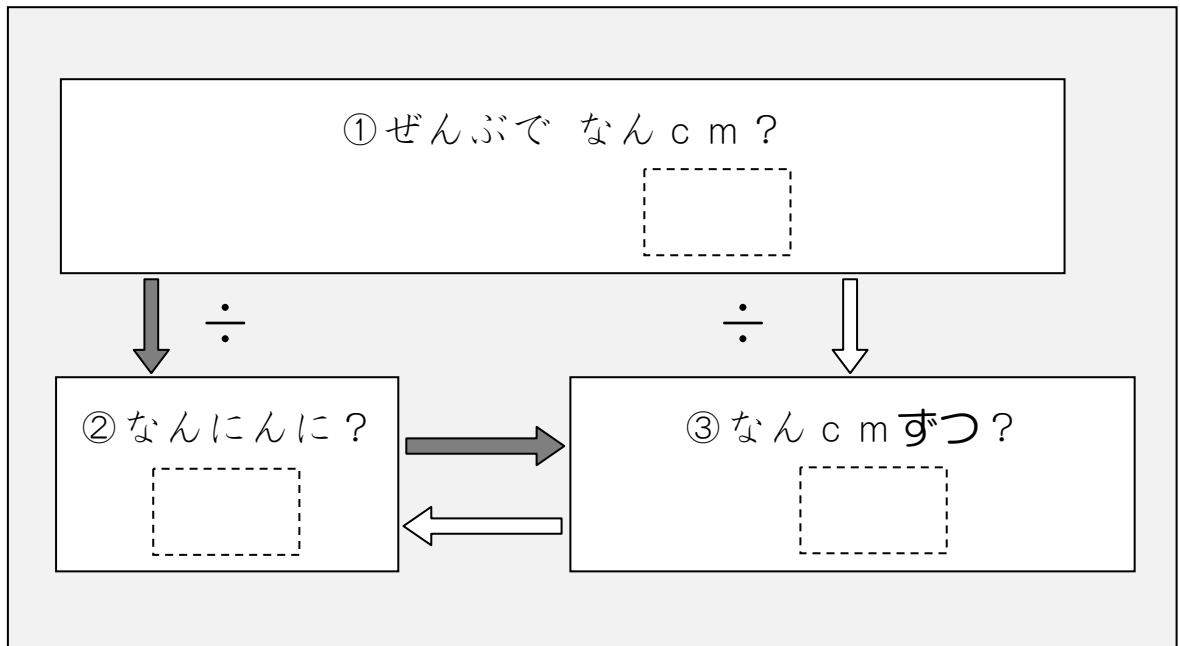
24 cm のリボンがあります。

このリボンを 6 cm ずつきると、

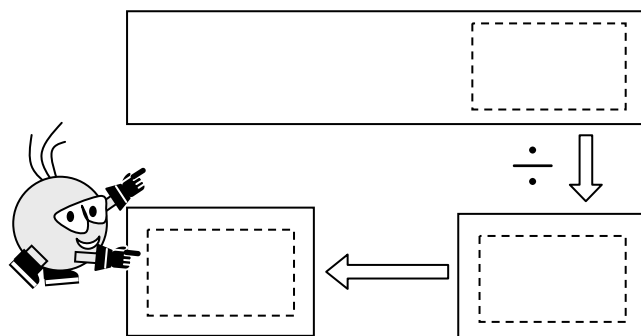
なんにんにくばれますか。



これも ずをつかって、かんがえてみましょう。



- ① リボンは ぜんぶで なん cm と 書いてありますか。
- ② 「なんにんに」のところには かが 書いてありません。
- ③ 「ずつ」のところには なん cm ずつと 書いてありますか。

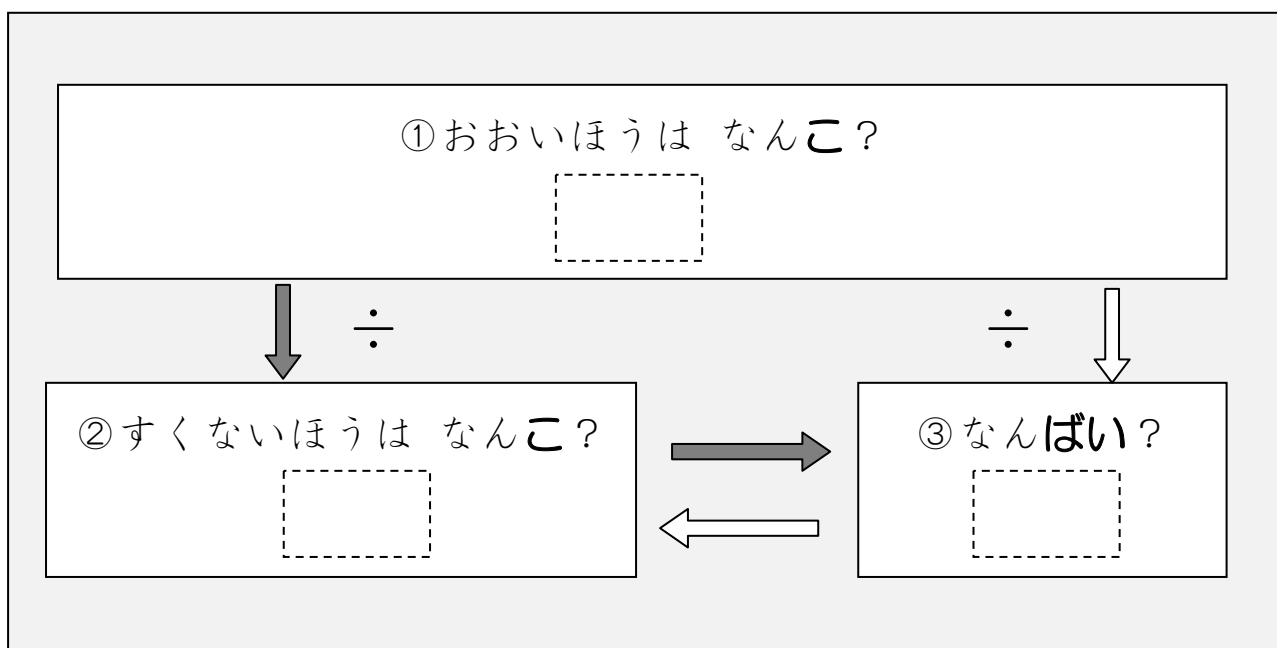


わたしは クッキーを 24こ もっています。

おとうとは 8こ もっています。

わたしは おとうとの なんばい もっていますか。

これも ずをつかって かんがえてみましょう。



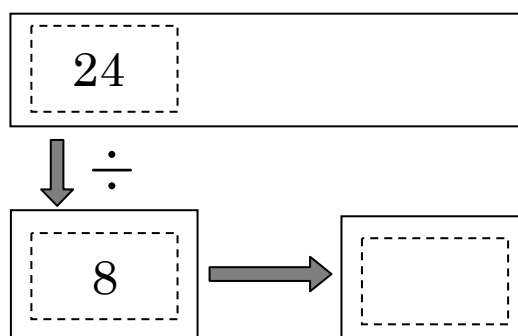
①「おおいほう（わたし）の かず」を ①の  に かきます。

②「すくないほう（おとうと）の かず」を ②の  に かきます。

③「なんばい」が わかりませんので、③の  には かきません。

$24 \div 8 = 3$  ですから、

こたえは 3ばいです。



6

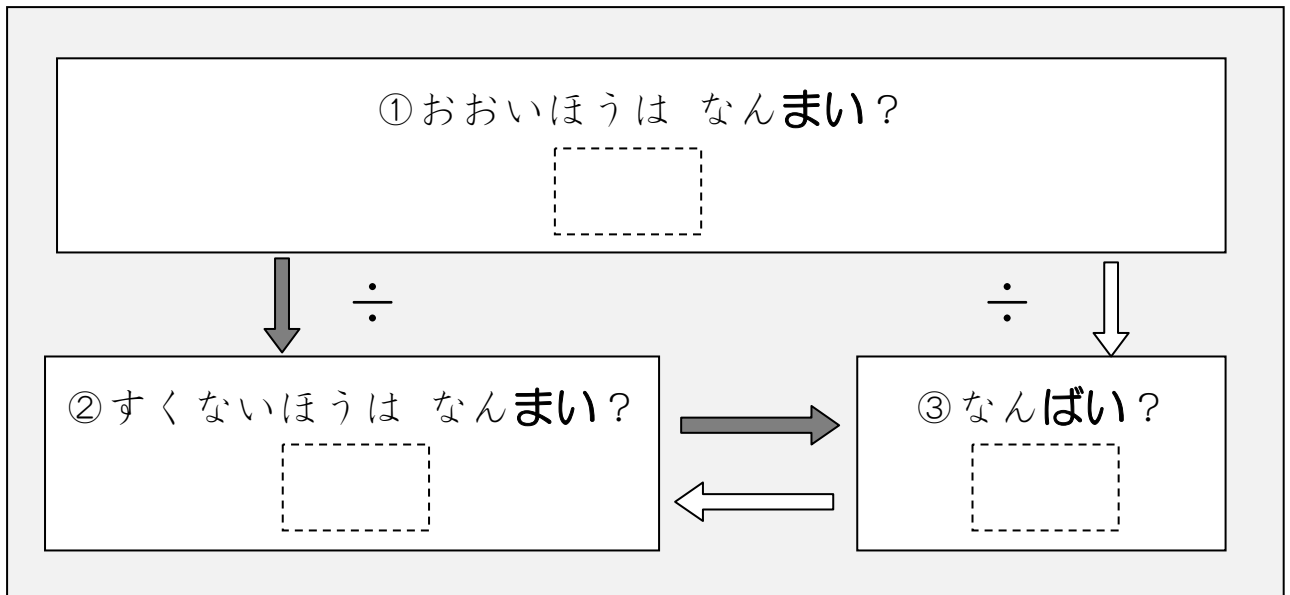
文章題を「関係図」を使って整理する方法に慣れる④－何倍(1)

わたしは おりがみを 72まい もっています。

いもうとは 9まい もっています。

わたしは いもうとの なんばい もっていますか。

ずを つかって かんがえてみましょう。



7

文章題を「関係図」を使って整理する方法に慣れる⑤－何倍(1)

おとうとは おりがみを 56まい もっています。

いもうとは 7まい もっています。

おとうとは いもうどの なんばい もっていますか。

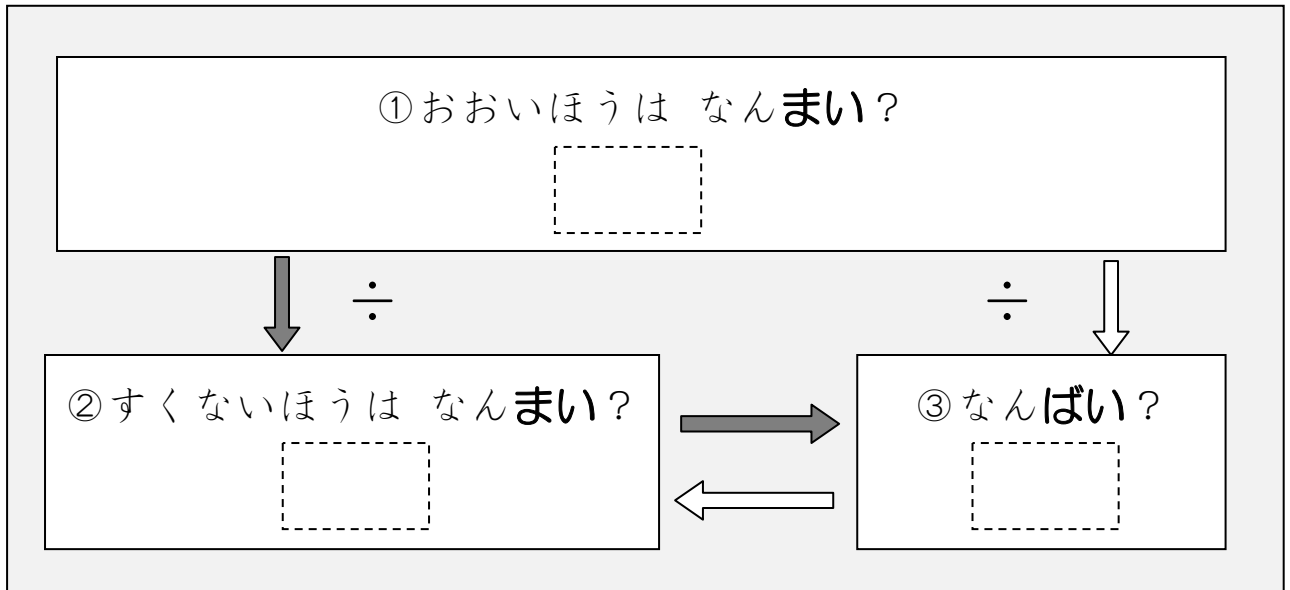
ずを つかって かんがえてみましょう。

おとうとは おりがみを 63まい もっています。

おとうとは いもうとの 7ばい もっています。

いもうとは なんまい もっていますか。

こんどは「なんばいか」が、わかっている もんだいです。



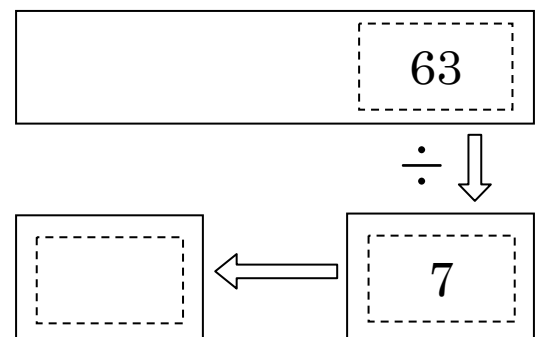
①おおいほう（おとうと）の かずは 63です。

②すくないほう（いもうと）の かずは わかりません。

③「なんばいか」は わかります。7ばいですね。

63 ÷ 7 の けいさんをすると、

こたえが わかります。





9

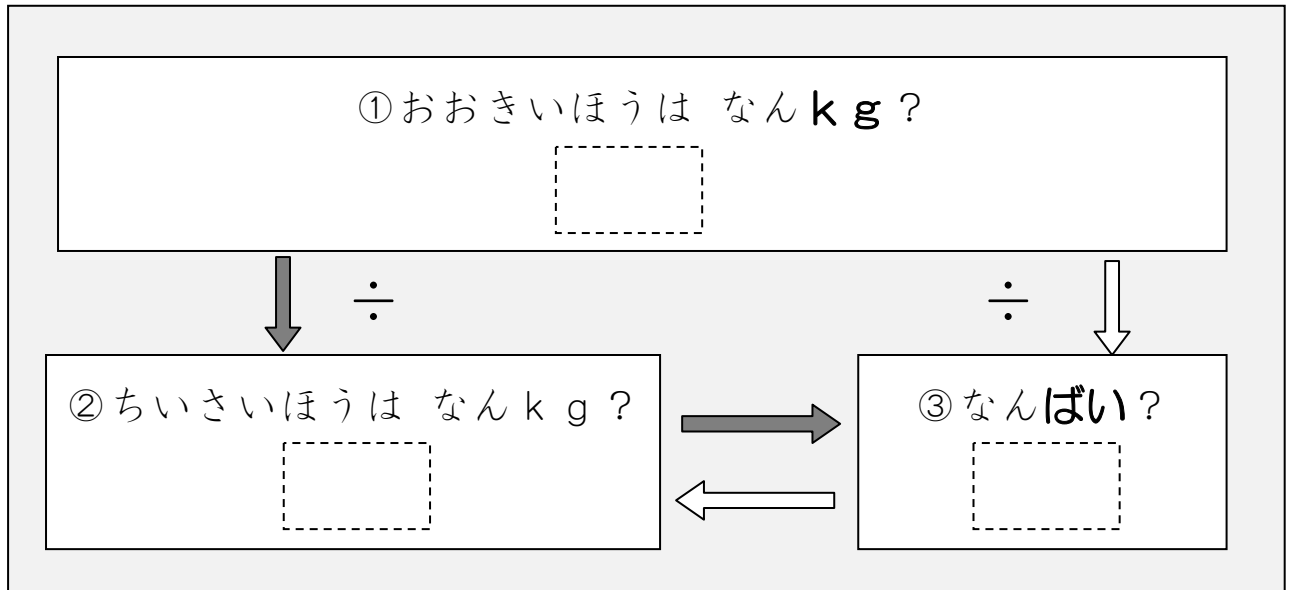
文章題を「関係図」を使って整理する方法に慣れる⑥—何倍(2)

おおきい はこは 56 kg です。

ちいさい はこの 7 ばいのおもさです。

ちいさい はこは なん kg ですか。

こんども「なんばいか」が、わかっている もんだいです。



10

文章題を「関係図」を使って整理する方法に慣れる⑦—何倍(2)

ながい テープは 42 cm です。

みじかい テープの 6 ばいの ながさです。

みじかい テープは なん cm ですか。

