

15 たすと ひくと

1

たしざんの ぶん



□ に □ を たすと □ になります。

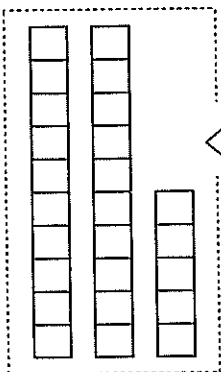


(2位数) + (1位数) で繰り上がりのない計算

2

ぶんと しきを こたえましょう。

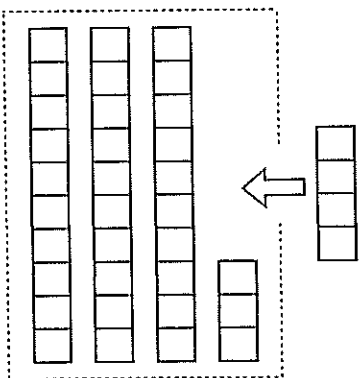
れい



25 に 3 を たすと 28 になります。

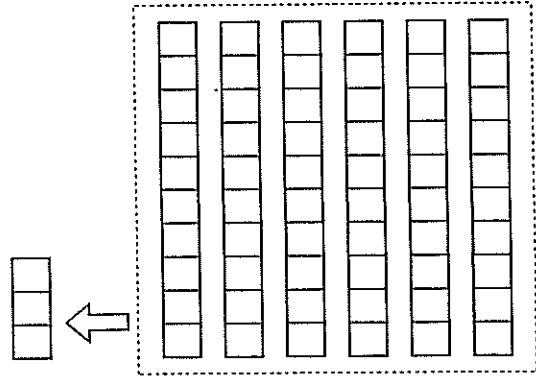
$$25 + 3 = 28$$

①



$$\square + \square = \square$$

②



$$\square + \square = \square$$

3

ひきざんの ぶん

□ から □ を ひくと □ になります。

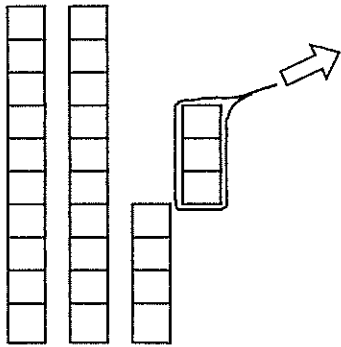


4

(2位数) - (1位数) で繰り下がりのない計算

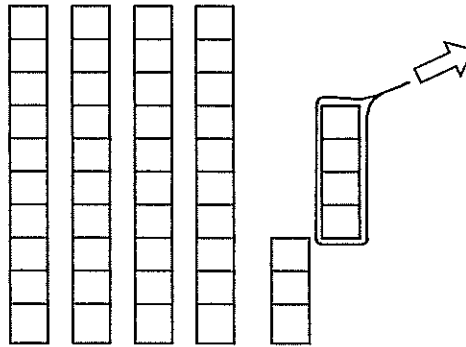
ぶんと しきを こたえましょう。

①



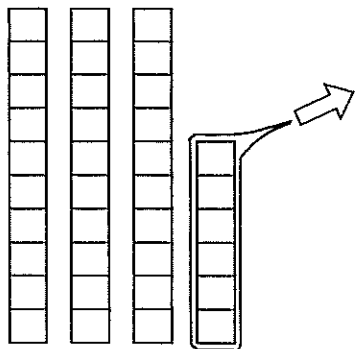
$$\boxed{27} - \boxed{3} = \boxed{24}$$

②



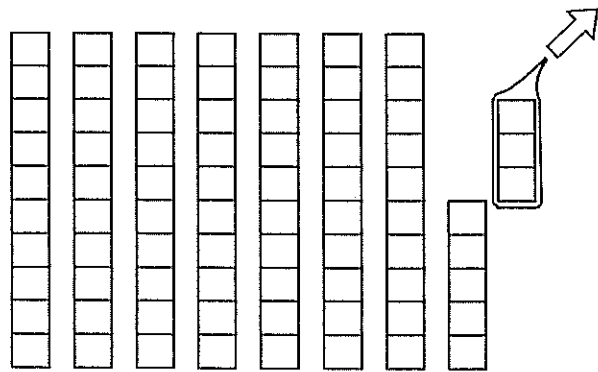
$$\boxed{\quad} - \boxed{\quad} = \boxed{\quad}$$

③



$$\boxed{\quad} - \boxed{\quad} = \boxed{\quad}$$

④

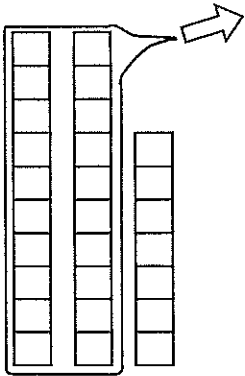


$$\boxed{\quad} - \boxed{\quad} = \boxed{\quad}$$

5

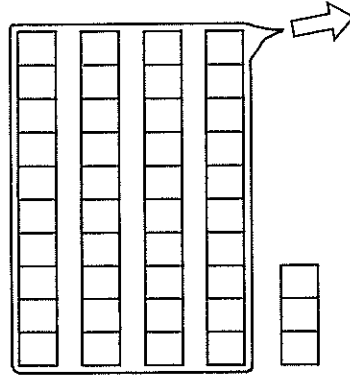
ぶんとしきをこたえましょう。

①




$$\boxed{27} - \boxed{20} = \boxed{7}$$

②



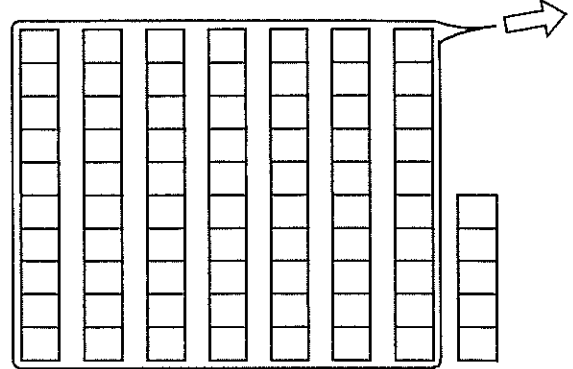
$$\boxed{\quad} - \boxed{\quad} = \boxed{\quad}$$

③



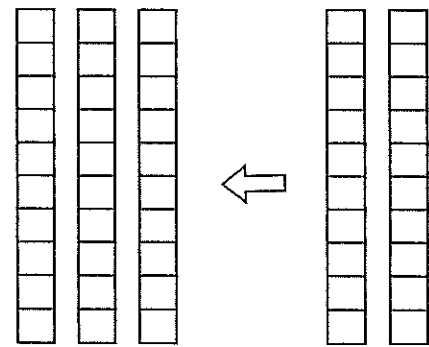
$$\boxed{\quad} - \boxed{\quad} = \boxed{\quad}$$

④



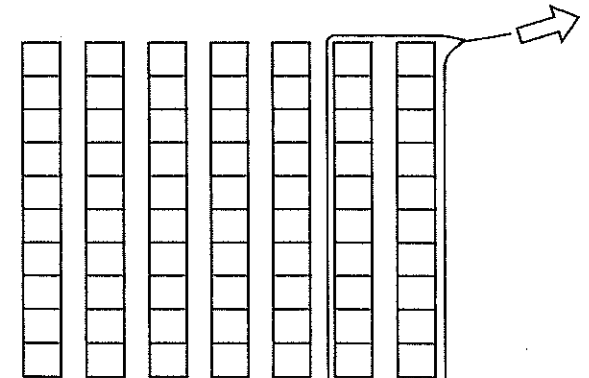
$$\boxed{\quad} - \boxed{\quad} = \boxed{\quad}$$

⑤



$$\boxed{\quad} + \boxed{\quad} = \boxed{\quad}$$

⑥



$$\boxed{\quad} - \boxed{\quad} = \boxed{\quad}$$

6

つぎの ぶんを よんで しきを こたえましょう。

- ① 25に 4を たすと 29になります。
- ② 34に 5を たすと 39になります。
- ③ 28から 4を ひくと 24になります。
- ④ 48から 6を ひくと 42になります。
- ⑤ 5に 40を たすと 45になります。
- ⑥ 78から 70を ひくと 8になります。

7

① 45に 4を たすと いくつになりますか。

しき

② 75から 4を ひくと いくつになりますか。

しき

③ 50に 40を たすと いくつになりますか。

しき