



16課
ようごとぶん

Lesson 16
Words and phrases

Leksyon 16
Mga Salita

ようご	Words	Mga salita
ひっさん	written calculation	pagkalkula; written calculation
たて	vertically	patayo

ぶん	Phrases	Grupo ng mga salita
42 + 17 の ひっさんを しましょう。	Do the written calculation for 42 + 17.	Kalkulahin ang 42 + 7.
たてにかく。	Write vertically.	Isulat nang patayo.

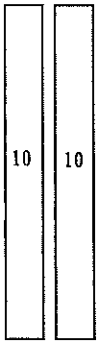

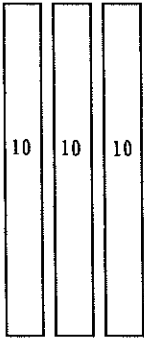

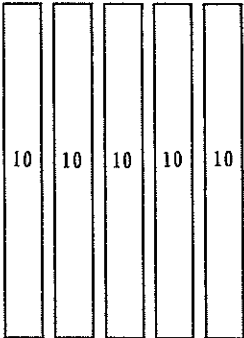

16

ひっさん

(2位数) + (2位数) で繰り上がりのない計算

1

25 と 34 で いくつですか。

25		と	
34		と	
59		と	

2と3で5。



5と4で9。




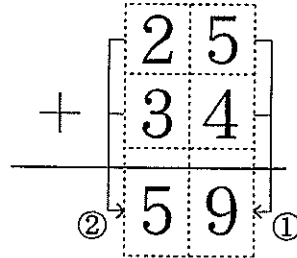
25 と 34 で 59 です。

2

25 + 34 の ひっさん

25 + 34 を たてにかく。

- ① 5 と 4 で 9。
- ② 2 と 3 で 5。
- ③ こたえは 59。
- ④ $25 + 34 = 59$



ひっさんと いいます。

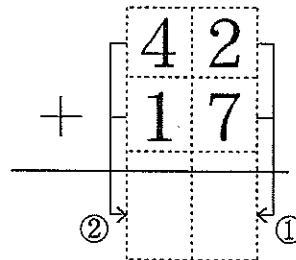


3

42 + 17 の ひっさんを しましょう。

42 + 17 を たてにかく。

- ① と で 。
- ② と で 。
- ③ こたえは 。
- ④ $42 + 17 =$

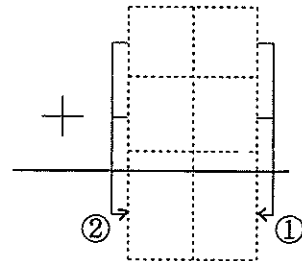


4

(1) $14 + 53$ の ひっさんをしましょう。

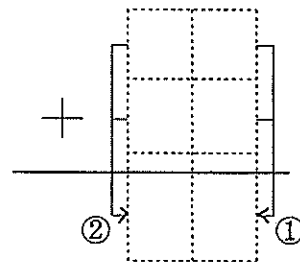
$14 + 53$ を たてにかく。

- ① と で 。
- ② と で 。
- ③ こたえは 。
- ④ $14 + 53 =$



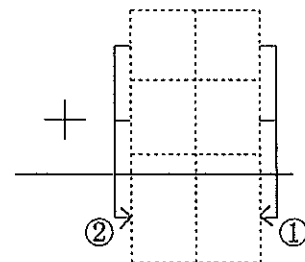
(2) $34 + 21$ の ひっさんをしましょう。

- ① と で 。
- ② と で 。
- ③ こたえは 。
- ④ $34 + 21 =$



(3) $22 + 33$ の ひっさんをしましょう。

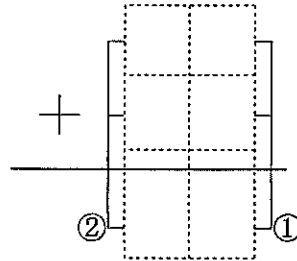
- ① と で 。
- ② と で 。
- ③ こたえは 。
- ④ $22 + 33 =$



(1) $13 + 43$ の ひっさんをしましょう。

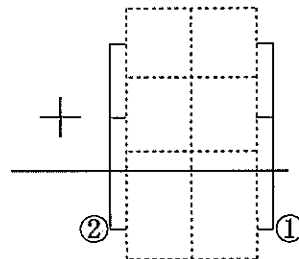
$13 + 43$ を たてにかく。

- ① と で 。
- ② と で 。
- ③ こたえは 。
- ④ + =



(2) $30 + 50$ の ひっさんをしましょう。

- ① と で 。
- ② と で 。
- ③ こたえは 。
- ④ + =



(3) $54 + 32$ の ひっさんをしましょう。

- ① と で 。
- ② と で 。
- ③ こたえは 。
- ④ + =

