



18課
ようごとぶん

Lesson 18
Words and phrases

Leksyon 18
Mga Salita

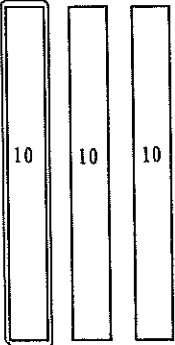
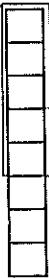


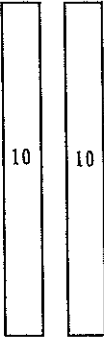


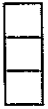
| ようご | Words | Mga salita |
|-------|--------|-----------------|
| くりさげて | borrow | humiram; borrow |

| ぶん | Phrases | Grupo ng mga salita |
|------------|---|---|
| 1くりさげて 12。 | Borrow 1 (from the tens, add to 2), 2 becomes 12. | Humiram ng 1 (isa) sa tens, ang 2 ay magiging 12. |

(2位数) - (2位数) で繰り下がりのない計算

1

38から15をひくといくつですか。

| | | |
|----------------|--|--|
| <p>38</p> |  |  |
| <p>38 - 15</p> |  <p>3から 1をひくと</p> |  <p>8から 5をひくと</p> |
| <p>23</p> |  <p>2</p>  | <p>3</p>   |

$$38 - 15 = 23$$

38から15をひくと23です。

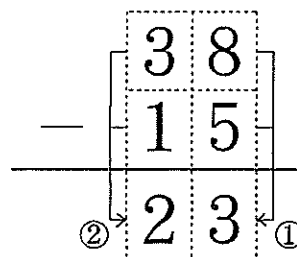
2

38 - 15 の ひっさん

① 8 から 5 を ひくと

② 3 から 1 を ひくと

③ $38 - 15 = 23$



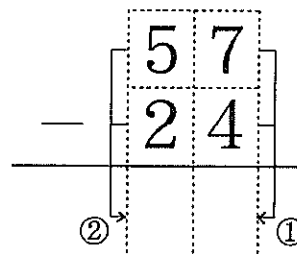
3

(1) $57 - 24$ の ひっさんを しましょう。

① 7 から 4 を ひくと

② 5 から 2 を ひくと

③ $57 - 24 =$

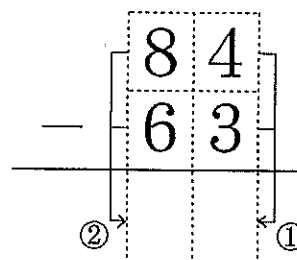


(2) $84 - 63$ の ひっさんを しましょう。

① から を ひくと

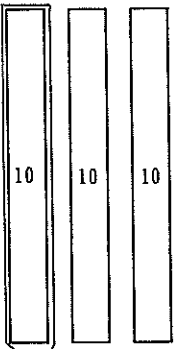

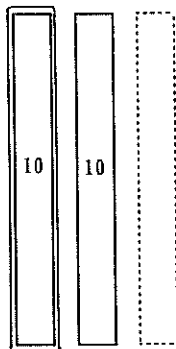
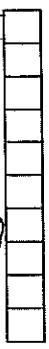
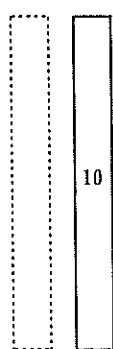
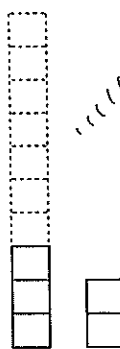
② から を ひくと

③ $84 - 63 =$



4

32から17をひくといくつですか。

| | | |
|---------|--|---|
| 32 |  <p>3から 1はひける</p> |  <p>2から 7はひけない</p> |
| 32 - 17 |  |  <p>1くりさげて</p> |
| 15 |  |  |

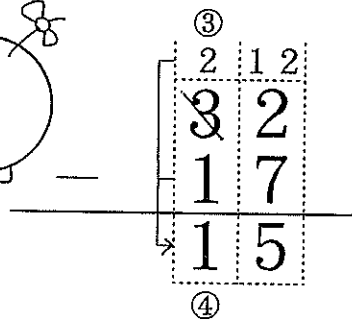
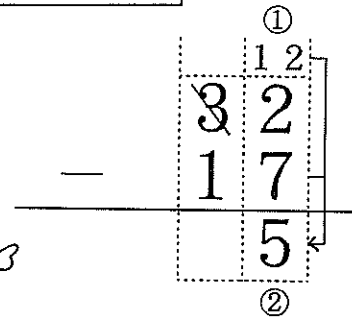

$32 - 17 = 15$

32から17をひくと15です。

5

32 - 17 のひっさん

- ① 2 から 7 は ひけないから
1 くりさげて 12。
- ② $12 - 7 = 5$
- ③ 1 くりさげたから 2。
- ④ $2 - 1 = 1$



6

45 - 18 の ひっさんをしましょう。

- ① から 8 は ひけないから
1 くりさげて 。
- ② - 8 =
- ③ 1 くりさげたから 3。
- ④ $3 - 1 = \text{$

