



指導ポイント&ヒント  
19課 いくつあまりますか

【内容】2つの数量の対応から「あまり」を求める減法

【表現】[ ] 個ずつ配ると、いくつあまりますか。 / あまる

【指導ポイント&ヒント】

- ・ 図で表すと2つのものの差を求める問題であることがよく分かります。
- ・ 差を求める 6 課・7 課と基本的には同じ計算ですが、N個ずつ配った結果、いくつ余るかという場面設定が異なります。
- ・ 「N個ずつくばる」という操作と言い方をしっかり覚えさせるようにしてください。



19課  
ようごとぶん

**Lesson 19**  
**Words and phrases**

**Leksyon 19**  
**Mga Salita**

ようご	Words	Mga salita
1こずつくばる	give out 1 (piece) to each person	tig-iisang ipamimigay
あまる	be left over	matitira


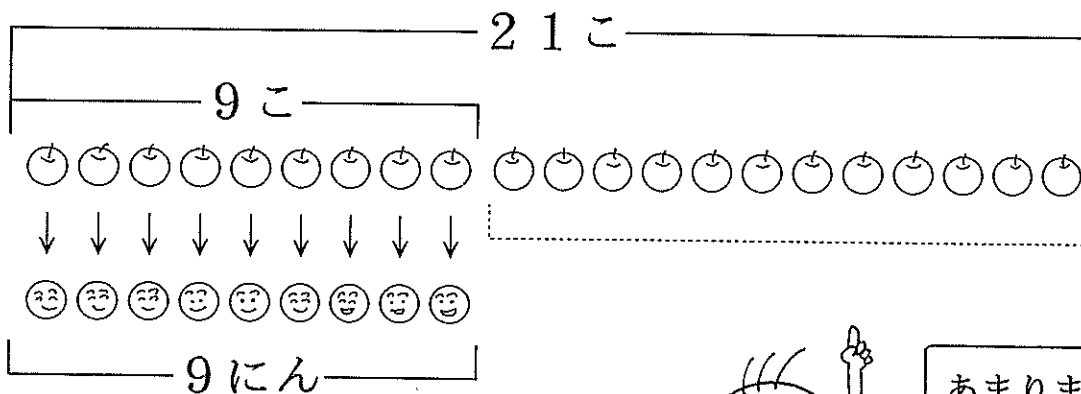

ぶん	Phrases	Grupo ng mga salita
(りんごを) 1こずつくばると、なんこあまりますか。	If you give out 1 apple to each child, how many are left?	Kung ipamimigay ang mga mansanas ng tig-iisa sa bawat bata, ilang mansanas ang matitira?

# 19 いくつ あまりますか。

2つの数量の対応から「余り」を求める減法

1

りんごが 21 個あります。こどもは 9 にんいます。  
1 個ずつ くばると、りんごは なんこ あまりますか。



しき  $21 - 9 = 12$

ひっさん

—	2	1
		9
	1 2	

こたえ 12こ



2

(1) えんぴつが 23 ぽん あります。こどもは 16 にん います。1 ぽんずつくばると、えんぴつは なんぽん ありますか。

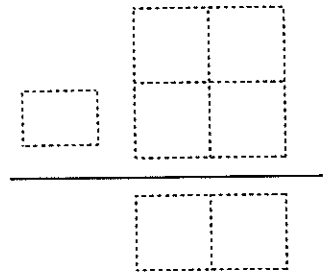
23 ぽん

あまります。

しき

ひっさん

こたえ



(2) みかんが 25 こ あります。こどもは 17 にん います。1 こずつくばると、みかんは いくつ ありますか。

こ

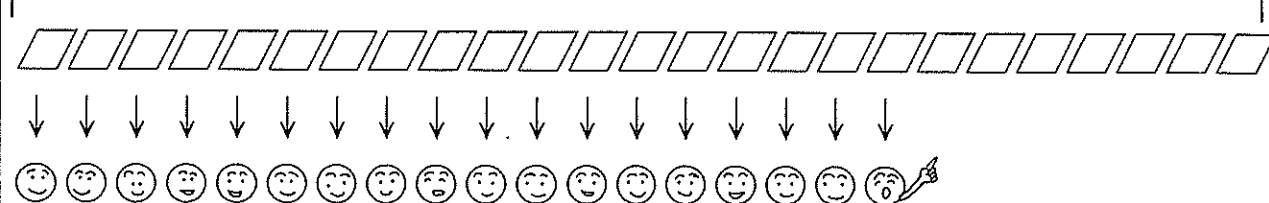
あまります。

にん

3

(1) はがきが 25まいあります。ともだちは 18にん  
います。1まいずつはがきをだすと、  
はがきはなんまいあまりますか。

\_\_\_\_\_  まい \_\_\_\_\_

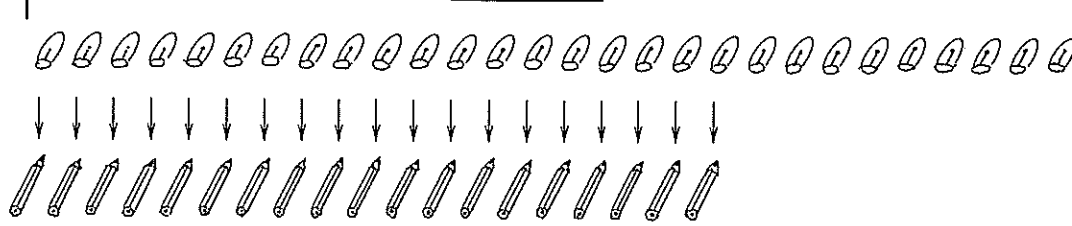


\_\_\_\_\_  にん \_\_\_\_\_

(2) キャップが 28 あります。えんぴつは 19ほん  
あります。ひとつずつキャップをつけると、  
キャップはいくつあまりますか。



\_\_\_\_\_  \_\_\_\_\_



\_\_\_\_\_  ほん \_\_\_\_\_

(3) いすが 58 あります。こどもが 43にんいます。  
ひとりずつすわると、いすはいくつあまりますか。