



6課
ようごとぶん

Unidad 6
Palabra y Frase

ようご	Palabra
まる	Círculo
しかく	Cuadrado
おおい	Más
なんこ	Cuántos
すくない	Menos
さんかく	Triángulo

ぶん	Frase
まるはしかくより2こおおい。	Hay 2 círculos más que cuadrados.
まるはしかくよりなんこすくないですか。	¿Cuántos círculos hay menos que cuadrados?
さんかく	Triángulo



6 まるは しかくより 2こ おおい。

1

(1位数) - (1位数) / 多少を比較する表現

まる



しかく



7こ

5こ

まるは おおい。 こ おおい。

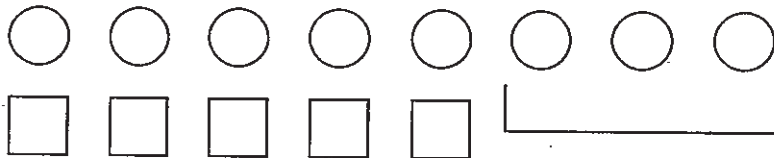
まるは しかくより こ おおい。



2

えをみて、ぶんをいしましょう。

①

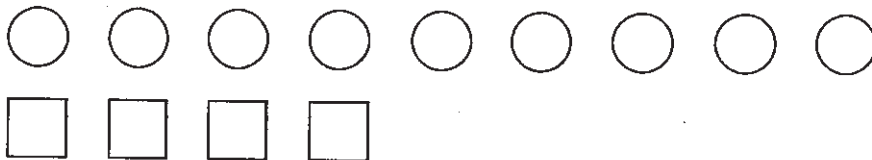


8こ
5こ

まるは おおい。 こ おおい。

まるは しかくより こ おおい。

②



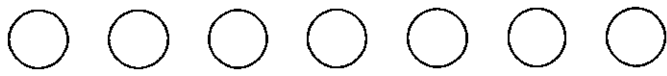
9こ
4こ

まるは 。 こ 。

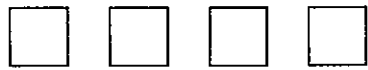
まるは より こ 。

3

まるは しかくより なんこ おおいですか。



7 こ



4 こ

しき $7 - 4 = 3$

こたえ 3 こ

ぶん まるは しかくより 3 こ おおいです。



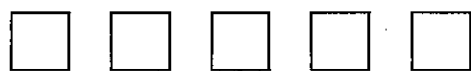
4

しきと こたえと ぶんを かいて よみましょう。

①



8 こ



5 こ

②



7 こ

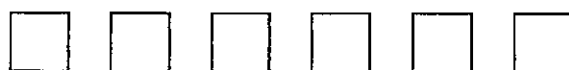


4 こ

③



9 こ

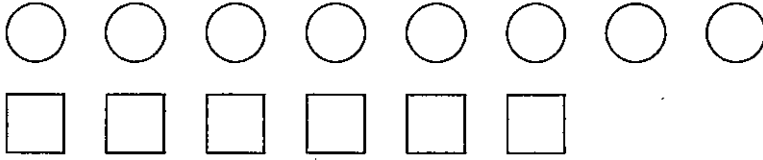


6 こ

5

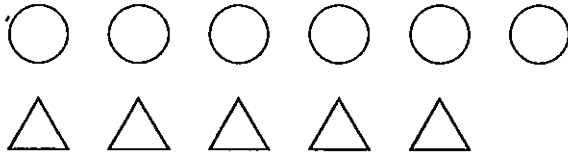
しきと こたえと ぶんを かいて よみましょう。

①



8
6

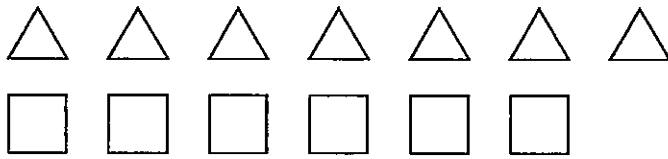
②



さんかく

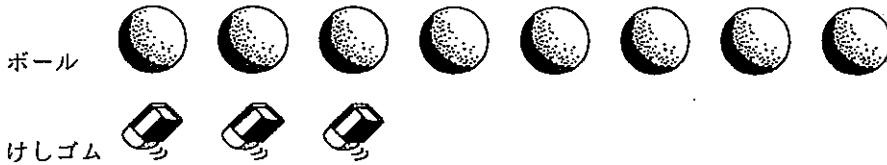
6
5

③



7
6

④

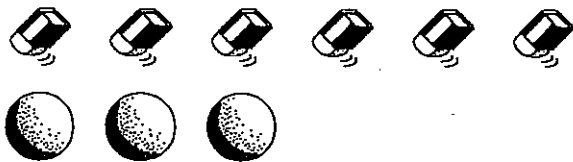


ボール

けしゴム

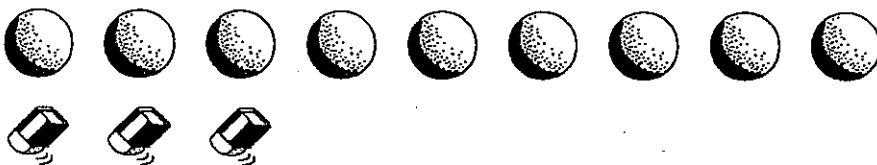
8
3

⑤



6
3

⑥



9
3

6


まるは しかくより なんこ すくないですか。



すくない



4 こ



7 こ

しき $7 - 4 = 3$

こたえ 3 こ

ぶん まるは しかくより 3 こ すくないです。



7

しきと こたえと ぶんを かいて よみましょう。

①



こ

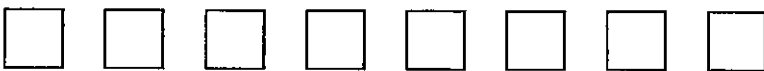


こ

②



こ



こ

③



こ



こ