



34課
ようごとぶん

Unidad 34
Palabra y Frase

ようご	Palabra
ず	Gráfico, figura


ぶん	Frase
このぶんをずにしました。	Representamos esta expresión con un diagrama.

34 たしざん・ひきざんとず ①

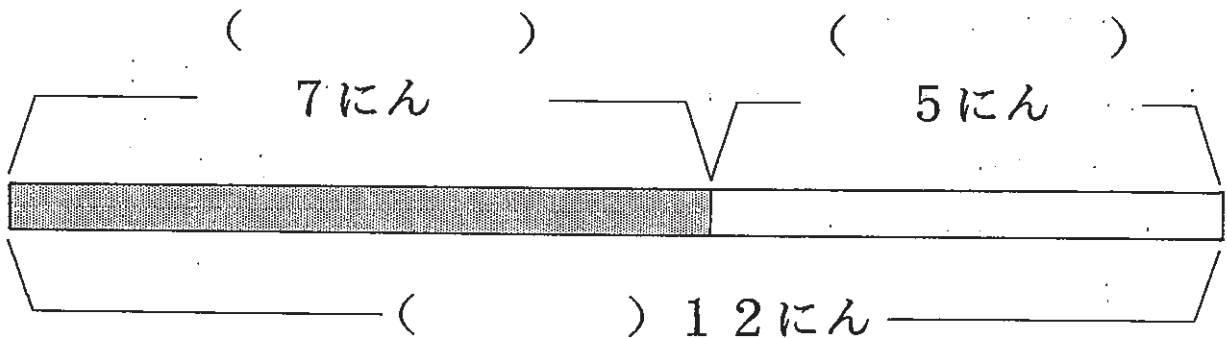
合算場面を表すテープ図の理解

1

おんなのこが 7 にん います。
 おとこのこが 5 にん います。
 ぜんぶで 12 にん います。



このぶんをず に しました。



① () に はいる ことばは どれですか。

おんなのこ


おとこのこ

ぜんぶで

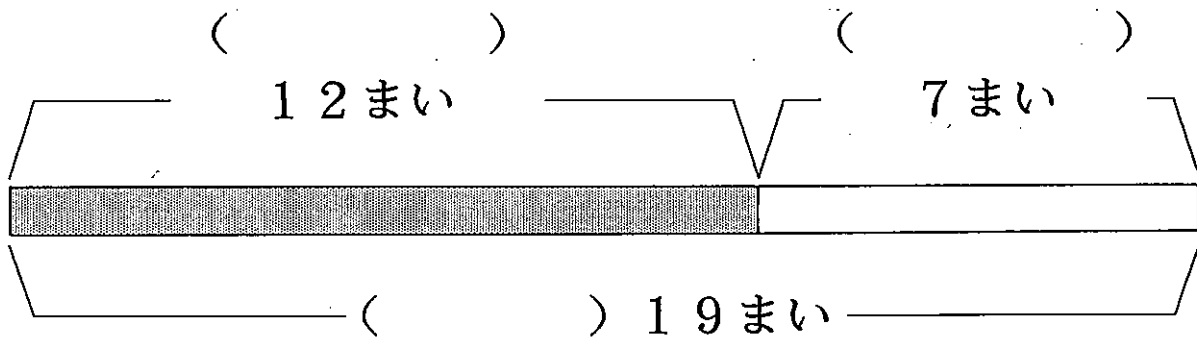
② このぶんを しきに しました。

$$7 + 5 = 12$$

くろいかみが 12まいあります。
 しろいかみが 7まいあります。
 ぜんぶで 19まいあります。



このぶんを ずに しました。




① () にはいる ことばをかきましょう。

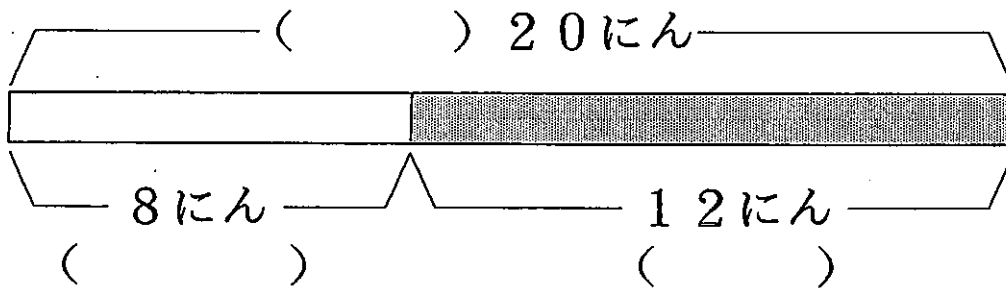
② このぶんをしきにしましょう。

3

はじめ、20にんいました。
 8にんかえたので、
 のこりは12にんになりました。



このぶんをずにしました。



① () にはいることばは どれですか。

はじめ


かえた

のこり

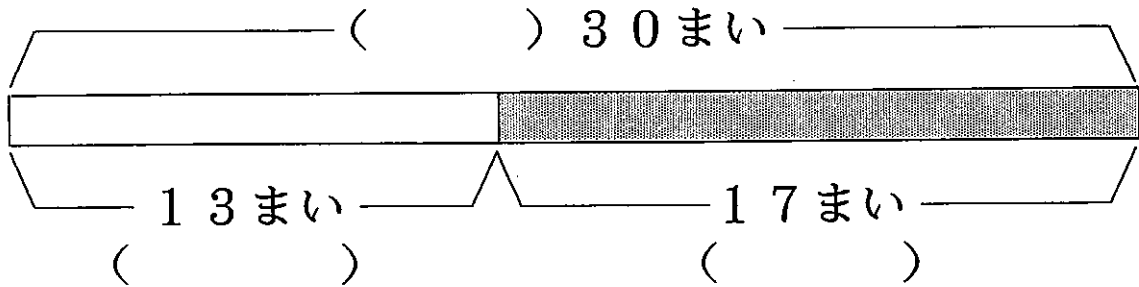
② このぶんをしきにしました。

はじめ	かえた	のこり	
20	-	8	=
		12	

はじめ、かみが 30まいありました。
 13まいつかったので
 のこりは 17まいになりました。



このぶんをずにしました。



① () にはいることばをかきましょう。

② このぶんをしきにしましょう。