

かみがなんまいかあります。

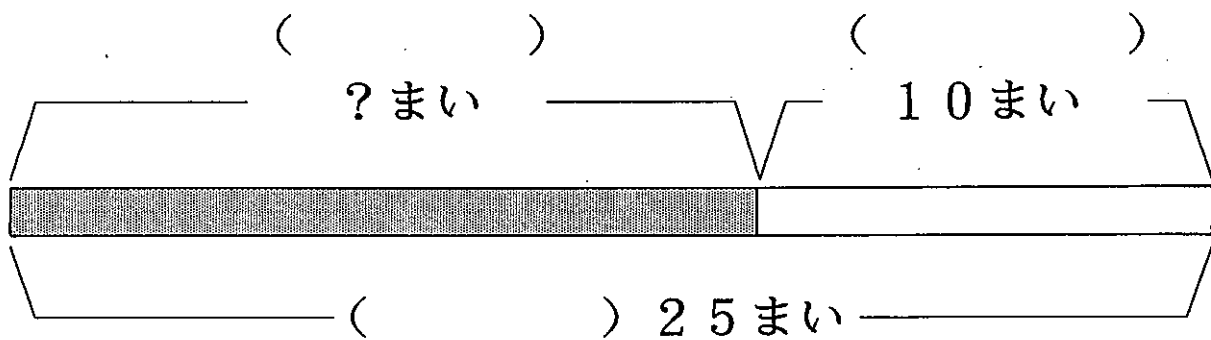
*かみがあります。でも、なんまいかわかりません。

あとで 10まい もらったので、

ぜんぶで 25まい になりました。

はじめ、かみはなんまい あったのでしょうか。

このぶんを ず に しました。



① () にはいる ことばは どれですか。

はじめ

もらった

ぜんぶで


② にはいる かずを かきましょう。

ぜんぶで

もらった

はじめ

$$\boxed{} - \boxed{} = \boxed{}$$



③ はじめ、かみはなんまい あったのでしょうか。

3

りんごがなんこかありました。

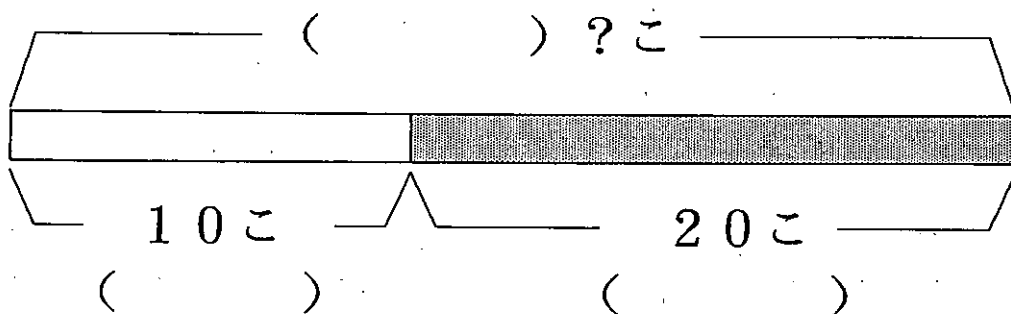
*りんごがありました。でも、なんこか わかりません。

10こ たべたので、

のこりは 20こ になりました。

はじめ、りんごはなんこ あったのでしょうか。

このぶんを ず に しました。




① () にはいる ことばは どれですか。

はじめ たべた のこり

② にはいる かずを かきましょう。

のこり たべた はじめ

$$\boxed{} + \boxed{} = \boxed{}$$



③ はじめ、りんごはなんこ あったのでしょうか。

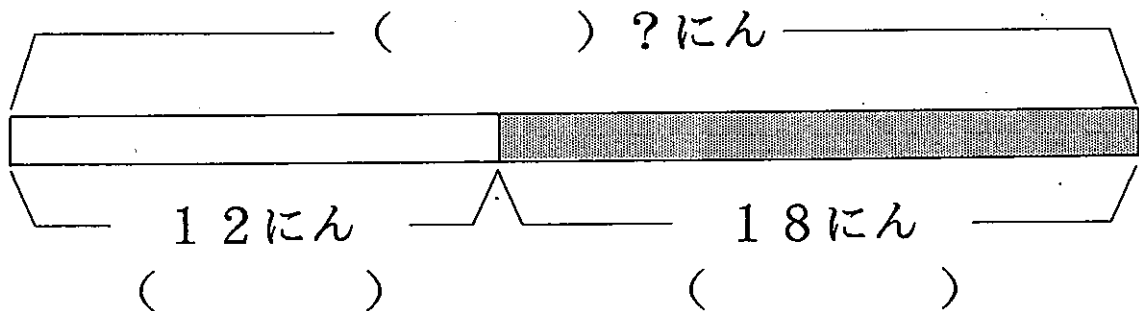
こどもがなんにんかいました。

12にんかえたので、

のこりは18にんになりました。

はじめ、こどもはなんにんいたのでしょうか。

このぶんをずいしました。



① () にはいることばをかきましょう。

② にはいるかずをかきましょう。

$$\begin{array}{ccccc}
 \text{のこり} & & \text{かえた} & & \text{はじめ} \\
 \square & + & \square & = & \square
 \end{array}$$

③ はじめ、こどもはなんにんいたのでしょうか。